


Nombre: \_\_\_\_\_

Rojo=Frutas

Verde= Verduras

Naranja= Cereales


Morado= Proteínas



Matt llena su plato con:

- $\frac{1}{4}$  fruta
- $\frac{1}{4}$  grano
- $\frac{1}{4}$  proteína
- $\frac{1}{4}$  verduras


Dibuja cómo se vería el plato de Matt.



Kate llena su plato con:

- $\frac{1}{2}$  verduras
- $\frac{1}{4}$  proteína
- $\frac{1}{4}$  granos

Dibuja cómo se vería el plato de Kate.



Dan llena su plato con:

- $\frac{3}{4}$  grano
- $\frac{1}{4}$  proteína

Dibuja cómo se vería el plato de Dan.

1. ¿Cuál de los estudiantes comió más verduras? \_\_\_\_\_

2. ¿Cuál de los estudiantes comió más frutas? \_\_\_\_\_